

**عرض سلام و احترام
گزارش مصور مهر ماه، تقدیم به نگاه پر مهر
شما عزیزان
کلاس ۲/۲**

آموزگار: فرناز زهرایی نژاد



ریاضی


- ❖ معرفی پک ماوا
- ❖ جمع و تفریق با استفاده از کارتهای پک
به صورت گروهی
- ❖ انجام جمع و تفریق پای تخته و همچنین
بر روی تخته های وایت برد
- ❖ شروع فصل یک کتاب و انجام تمرینات آن
- ❖ آموزش و مروری بر جدول ارزش مکانی و
ساخت اعداد دو رقمی به صورت عینی با
استفاده از ابزار آموزشی پک ماوا
- ❖ انجام کتاب کار تریچه و حل تمرینات کتاب
- ❖ عدد سازی با کارت(در کارت عدد تکراری
نداریم)
- ❖ آموزش حل مسأله با شکل، چوب
خط، محور و ذهنی



❖ آموزش شمارش چندتا چندتا و ساختمان
سازی(جهت درک مطلب)با استفاده از چینه
❖ مروری کامل بر فصل یک و رفع اشکال
❖ اتمام فصل اول

آشنایی و معرفی پک ماوا







جمع و تفریق با
استفاده از کارت
های عدد







عدد نویسی



$$8 + 7 = 15$$

$$12 - 4 = 8$$

$$9 + 5 = 14$$

$$10 + 4 = 14$$

دوستتون دارم خانم ♥♥




شمارش اعداد با
استفاده از قصه گوئی










آموزش اعداد
دیجیتال






عدد سازی با
دسته های
ده تایی و
یکی و قرار
دادن در
جدول ارزش
مکانی







احمد ۳ بسته مداد رنگی ۶ تایی به رنگ‌های زرد، سبز، آبی، قرمز، قهوه‌ای و سیاه داشت. او رنگ‌های سبز و زرد هر ۳ بسته را برداشت. حالا چند مداد رنگی برایش باقی مانده است؟ (این مسئله را با رسم شکل هم می‌توانید حل کنید.)



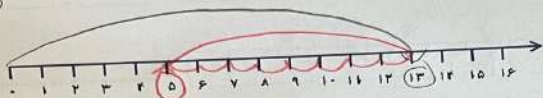
۱۲

حل تمرین و استفاده از فایل پاور پوینت جهت تثبیت یادگیری

درس چهارم: جمع و تفریق

۱- حاصل جمع و تفریق های زیر را با محور به دست آورید.


$$۱۳ - ۸ = \Delta$$



$$۱۶ - ۹ + ۴ =$$



$$۱۲ + ۴ - ۶ =$$



کتاب کار تریچه





مرور درس با
فیلم
آموزشی و
کوشا و
میشا



آموزش شمارش چندتا چندتا با استفاده از چینه

شمارش چند تا چند تا $10, 20, 30, 40$

فعالیت

۱- با چینه‌ها ساختمان بسازید. هر طبقه با ۴ چینه درست می‌شود.

- ساختمان ۲ طبقه با چند چینه ساخته می‌شود؟ 8
- ساختمان ۳ طبقه با چند چینه ساخته می‌شود؟ 12
- ساختمان ۴ طبقه با چند چینه ساخته می‌شود؟ 16
- ساختمان ۵ طبقه با چند چینه ساخته می‌شود؟ 20

حالا الگوی عددی زیر را کامل کنید.

$4, 8, 12, 16, 20$

۲- حالا هر طبقه‌ی ساختمان را با ۶ چینه درست کنید. ساختمان سازی را تا طبقه‌ی پنجم ادامه دهید و به کمک آن الگوی عددی زیر را کامل کنید.

$6, 12, 18, 24, 30$

۳- شمارش چندتا چندتای زیر را کامل کنید.

$7, 14, \dots, \dots, \dots$

همه فعالیت ۱ را تکرار با ۵ چینه یا هر خط انجام دهید. مثال شما بر تابلو ۴ مرتب

فارسی

- ❖ روان خوانی درس ستایش و پخش فایل صوتی آن
- ❖ هایلایت کردن لغات مهم املائی
- ❖ روان خوانی درس اول و آموزش واژه سازی و پیاموز و بگو
- ❖ حل تمرینات نگارش
- ❖ یادگیری شعر یار مهربان
- ❖ روان خوانی درس دوم و آموزش آن و همچنین ارسال فایل آموزش ۲ درس اول در کارسنج
- ❖ نوشتن لغات هم معنی
- ❖ املاي خلاق(تایپی)

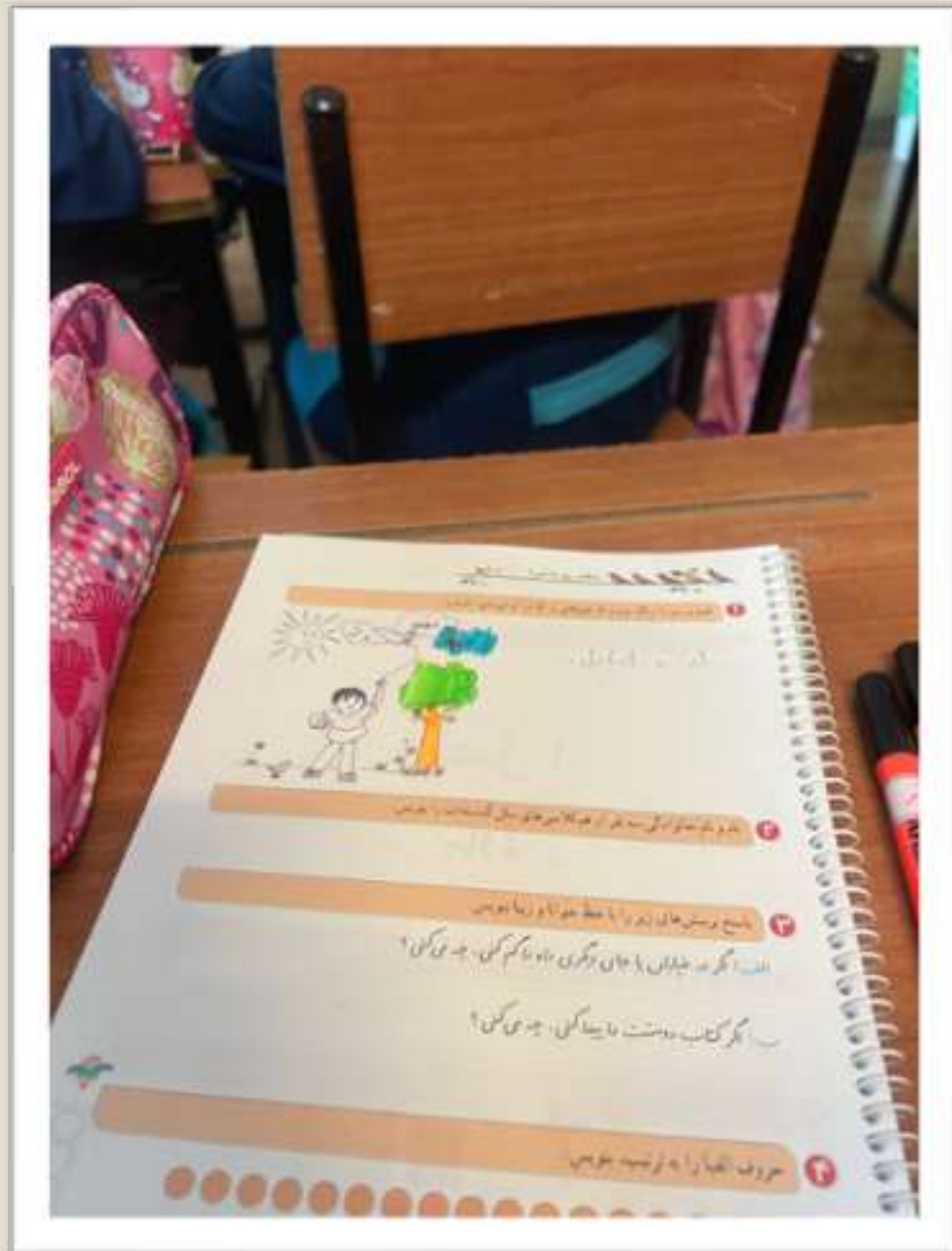


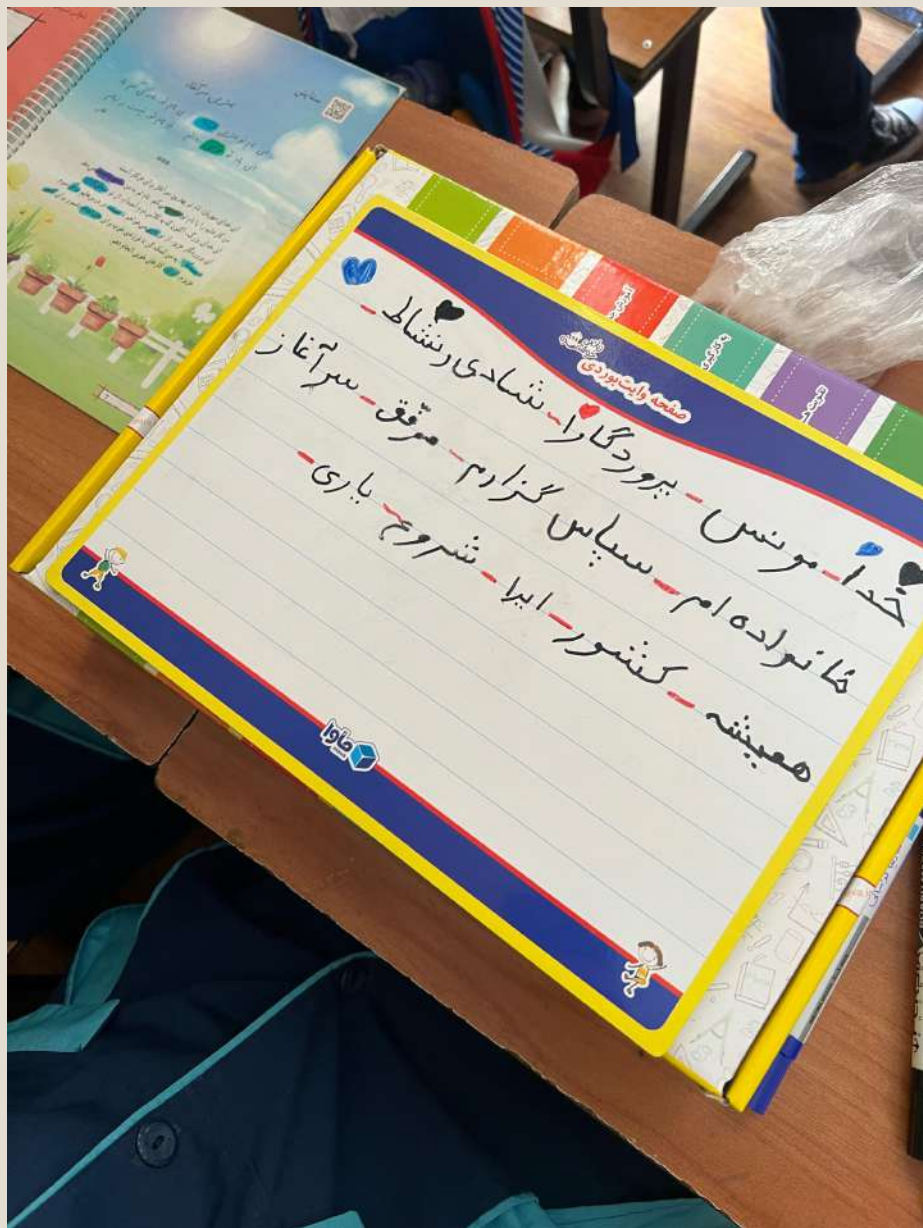
ستایش

بهترین سرآغاز

ای نام تو بهترین سرآغاز بی نام تو، نامم کی کنم باز
ای یاد تو مونس روانم جز نام تو، نیست بر زبانم
نقاس

ای خدای مهربان، نام تو بهترین سرآغاز برای هر کار است.
من کارهایم را با نام تو شروع می‌کنم. نام تو به من شادی و نشاط می‌دهد.
ای خدای بزرگ، اکنون که به کلاس دوم آمده‌ام، از تو سپاس گزارم.
ای پروردگار عزیز، از تو یاری می‌خواهم تا همیشه در درس‌هایم موفق شوم.
پروردگارا، به من کمک کن تا فرزندی خوب برای خانواده‌ام باشم و برای کشور
عزیزم، ایران، کارهای خوبی انجام دهم.





تمرین گروهی لغات مهم درس


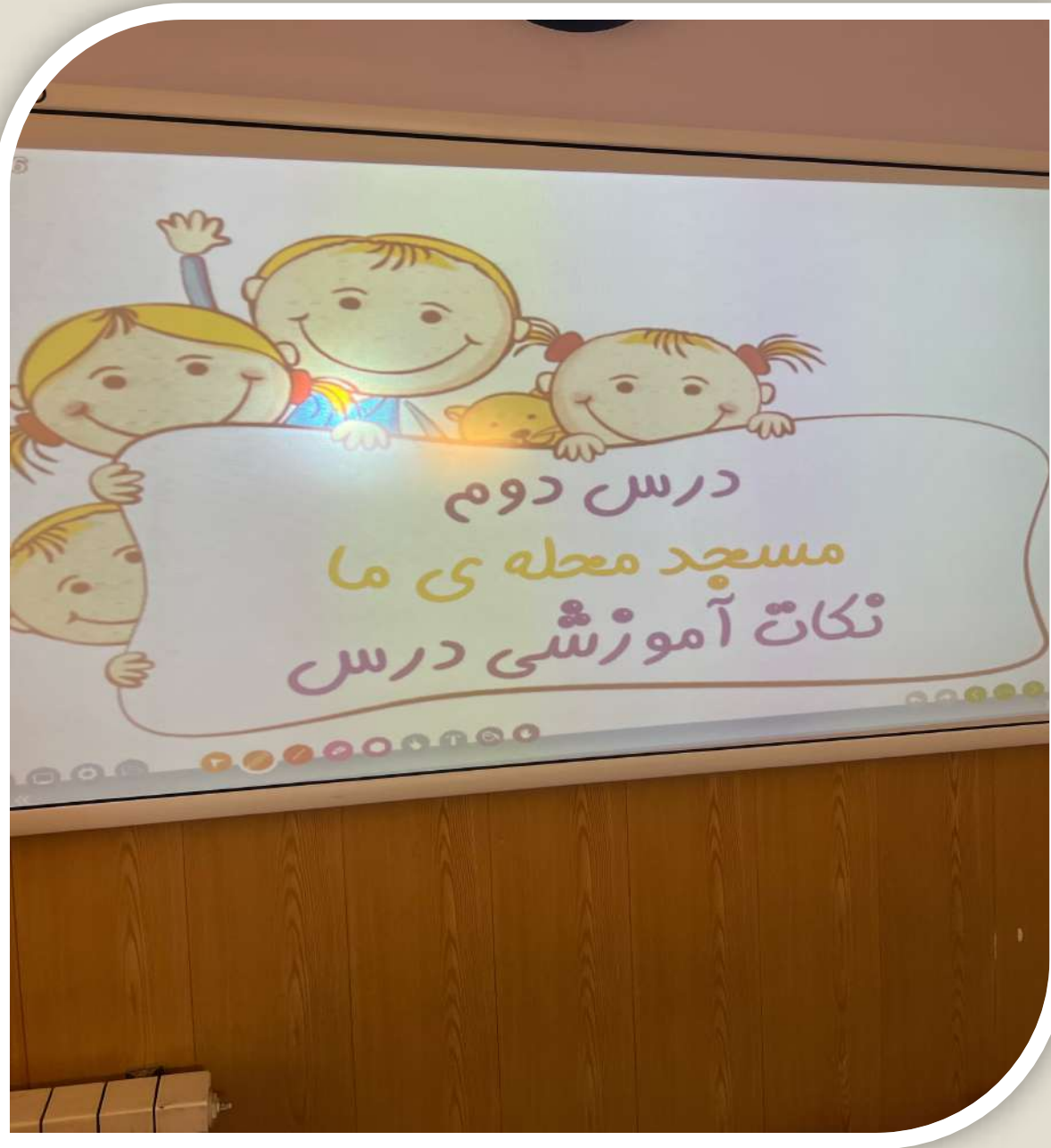


مسجد مکه ی ما

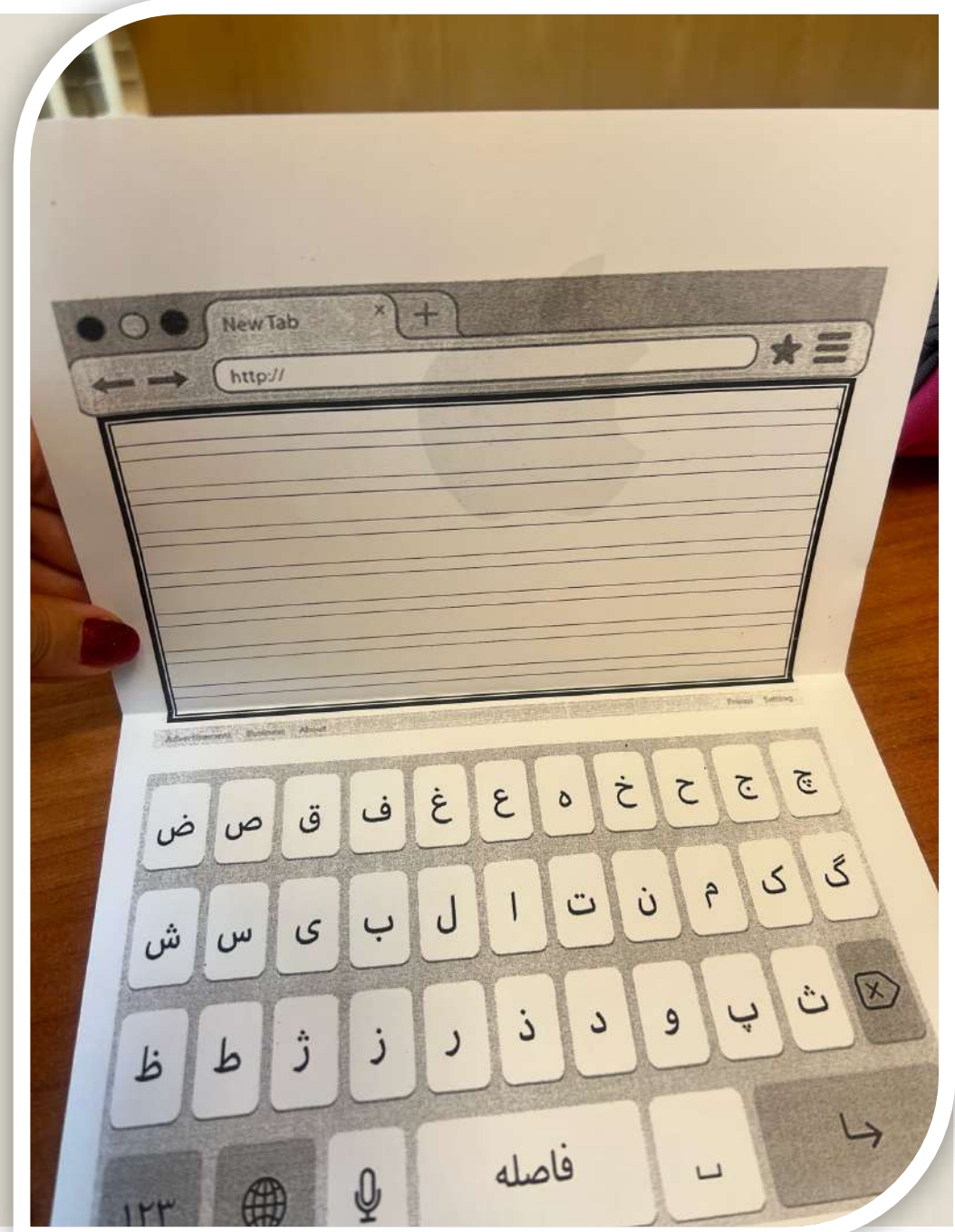
هم معنی	لغت
فستی از شهر	مکه
شار	توشال
گروهی از مردم	جماعت
پیش نماز	امام جماعت
زمانی که وقتی که	هنگامی که
امام جماعت	پیش نماز
مرف زدن، صحبت کردن	کفت و گو
مرف ها، صحبت ها	سفتان
هم چنین	نیز
به سوی، به سمت	به طرف

یار مهربان

هم معنی	لغت
دوست، رفیق	یار
شوش، صحبت	خوش بیان
حرف	سخن
زیاد	فراوان
نصیحت	پند
فایده	سود
صبر	زیان
نعمت	مباش
پس	غافل



املاى خلاق





آشنایی با حافظ و شعر خوانی















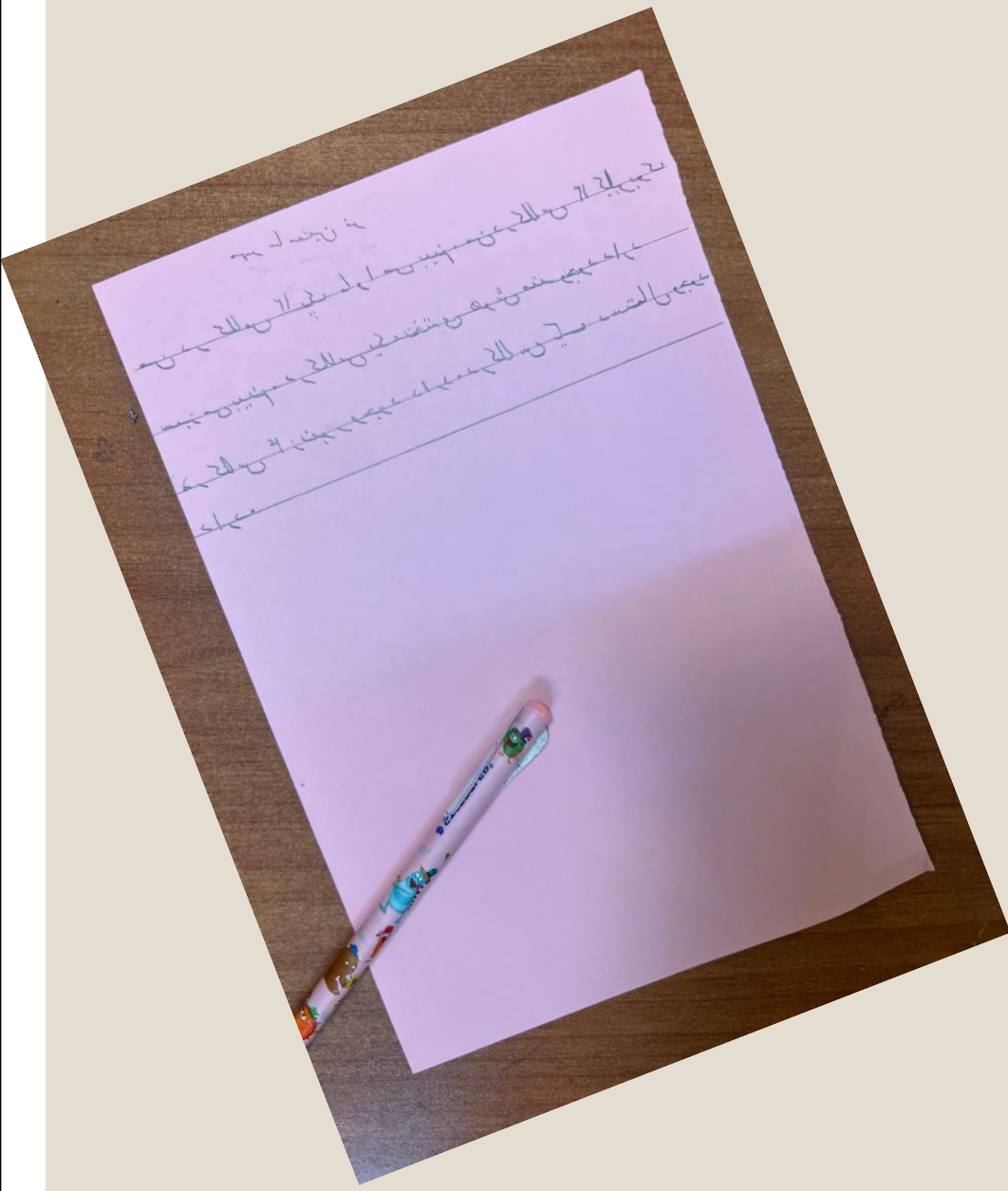


علوم تجربی

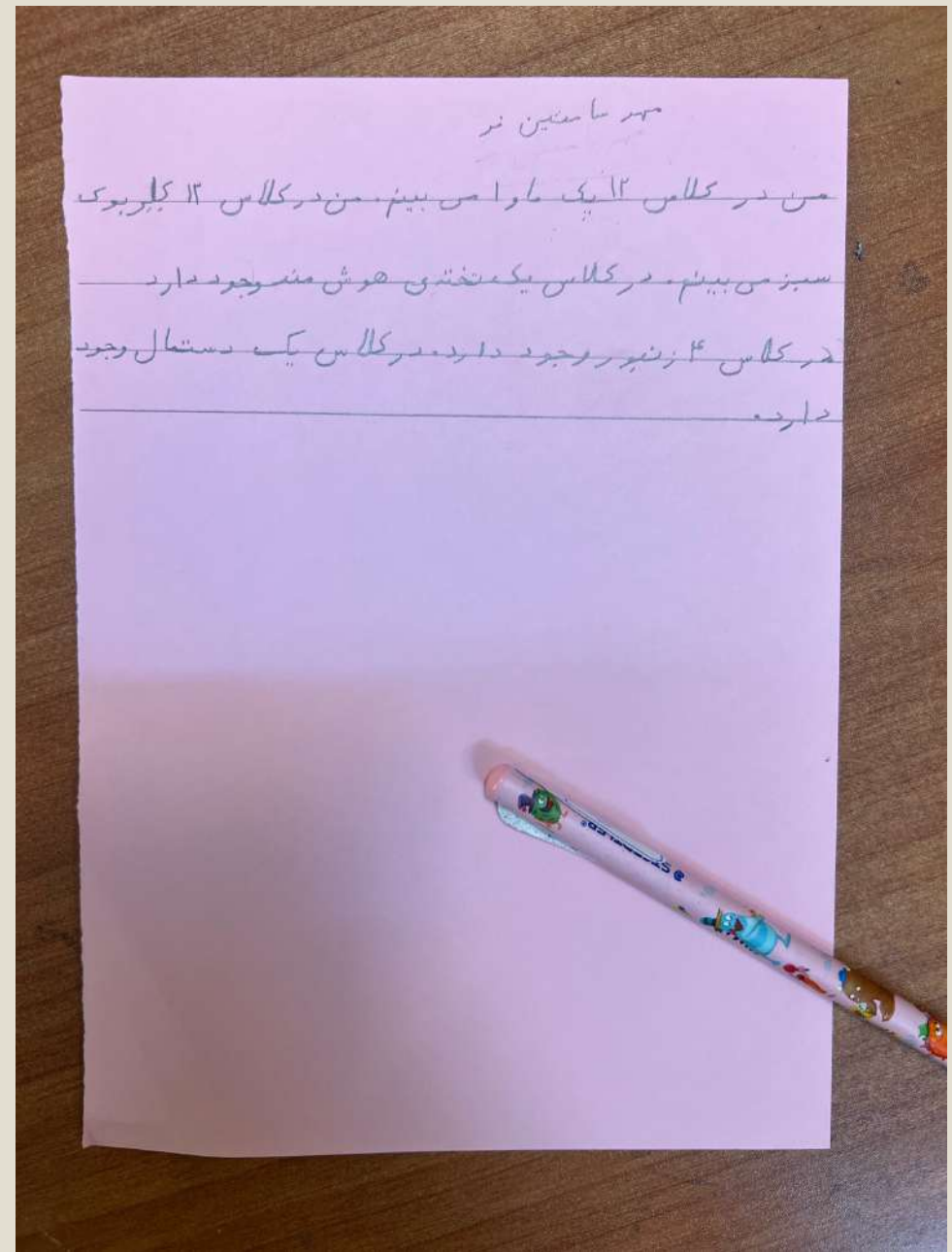
- ❖ آموزش فصل اول با فیلم آموزشی و فیلم فندق و همچنین آموزش یادداشت برداری در کلاس
- ❖ آموزش فصل دوم
- ❖ رفتن به آزمایشگاه و انجام آزمایش اول کتاب

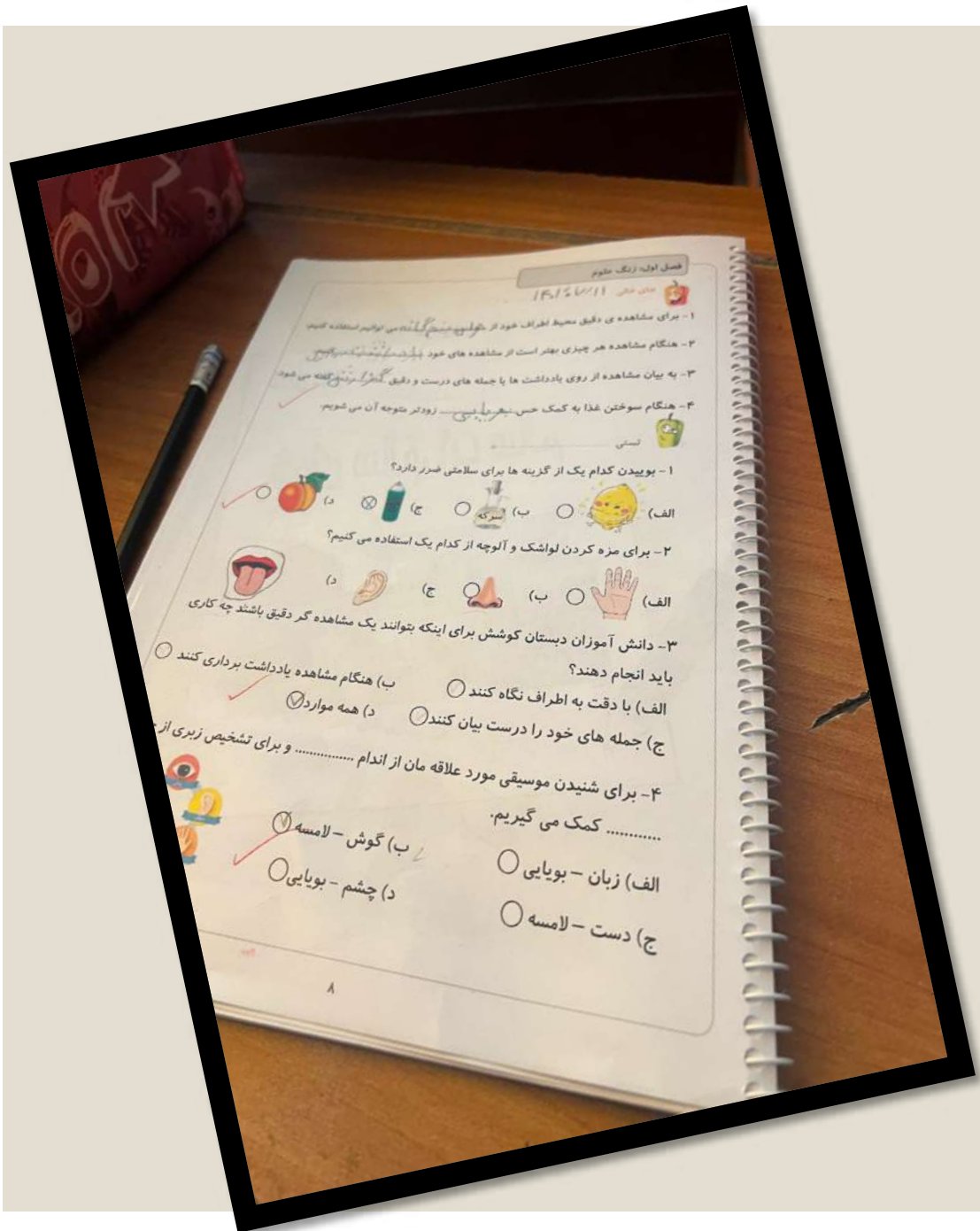
تماشای فیلم آموزشی
مربوط به فصل اول قصه
های رها و رهام





یادداشت بررداری در کلاس





فصل اول: رنگ علوم

تاریخ: ۱۳۹۷/۱۱/۱۱


- ۱- برای مشاهده ی دقیق محیط اطراف خود از عینک چشم استفاده کنید
- ۲- هنگام مشاهده هر چیزی بهتر است از مشاهده های خود بچشم خود نگاه کنید
- ۳- به بیان مشاهده از روی یادداشت ها یا جمله های درست و دقیق گذراست
- ۴- هنگام سوختن غذا به کمک حس بویایی زودتر متوجه آن می شویم

۱- بوییدن کدام یک از گزینه ها برای سلامتی ضرر دارد؟
الف) (الف) (ب) (ج) (د)

۲- برای مزه کردن لواشک و آلوچه از کدام یک استفاده می کنیم؟
الف) (الف) (ب) (ج) (د)

۳- دانش آموزان دبستان کوشش برای اینکه بتوانند یک مشاهده گر دقیق باشند چه کاری باید انجام دهند؟
الف) با دقت به اطراف نگاه کنند
ب) هنگام مشاهده یادداشت برداری کنند
ج) جمله های خود را درست بیان کنند
د) همه موارد

۴- برای شنیدن موسیقی مورد علاقه مان از اندام و برای تشخیص زبری از کمک می گیریم.
الف) زبان - بویایی
ب) گوش - لامسه
ج) دست - لامسه
د) چشم - بویایی



هوای سالم

کدام تصویر هوای سالم را نشان می دهد؟
شکل ۱



کدام تصویر هوای آلوده را نشان می دهد؟
چرا هوا آلوده شده است؟
کدام تصویر هوای آلوده را نشان می دهد؟
چرا هوا آلوده شده است؟
کدام تصویر هوای آلوده را نشان می دهد؟
چرا هوا آلوده شده است؟




آزمایشگاه
😊







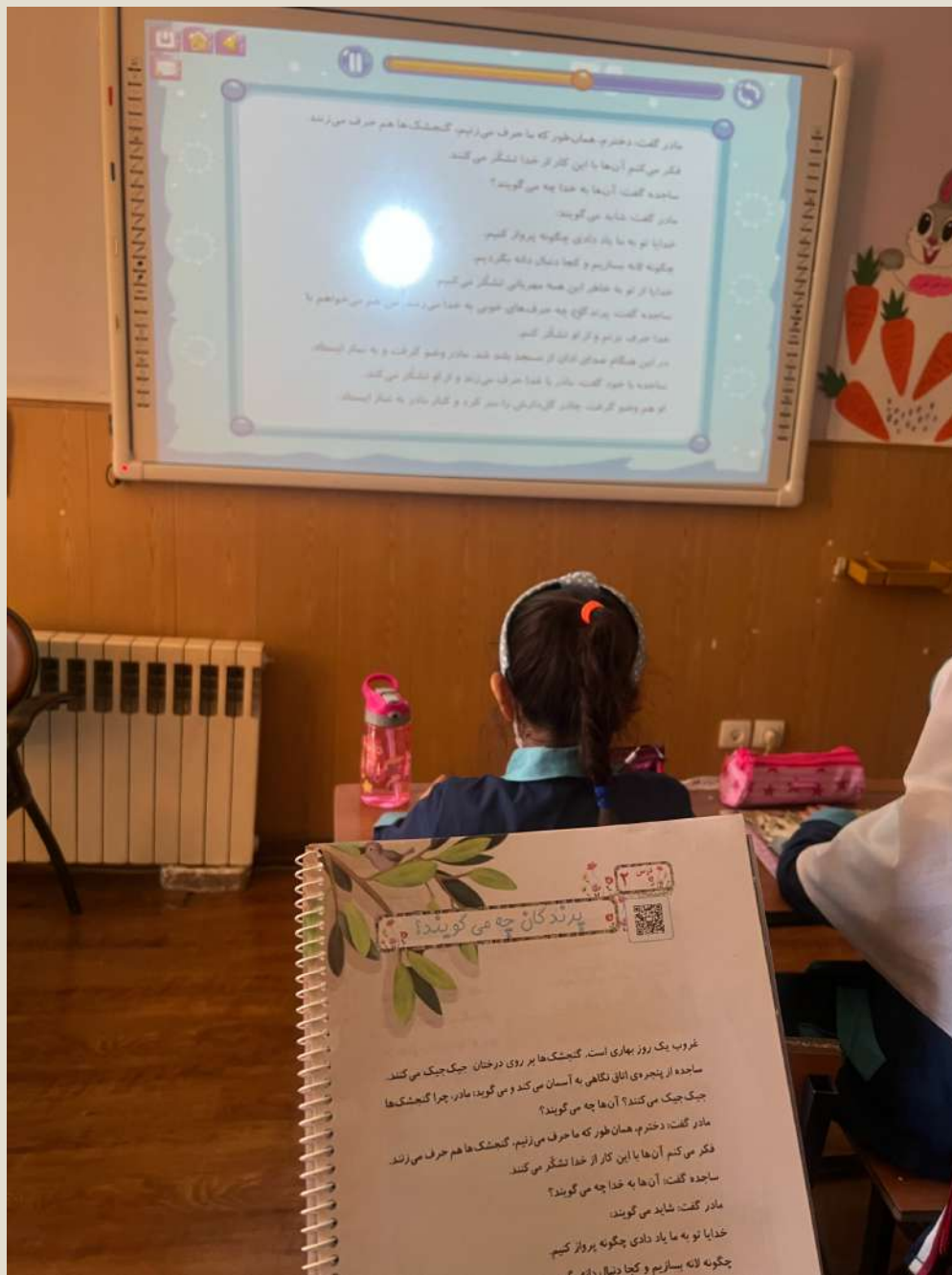






هدیه های آسمانی

❖ آموزش درس یک و دو
❖ مرور سوالات هر دو فصل



مادر گفت: دخترم، همان طور که ما حرف می‌زنیم، گنجشک‌ها هم حرف می‌زنند.
فکر می‌کنم آن‌ها با این کار از خدا تشکر می‌کنند.
ساجده گفت: آن‌ها به خدا چه می‌گویند؟
مادر گفت: شاید می‌گویند:
خدایا تو به ما یاد دادی چگونه پرواز کنیم.
چگونه لانه بسازیم و کجا دنبال دانه بگردیم.
خدایا از تو به خاطر این همه مهربانی تشکر می‌کنیم.
ساجده گفت: پرده کوچ چه حرف‌هایی شنیدی به خدا می‌زنی. من هم می‌خواهم با
خدا حرف بزنم و از او تشکر کنم.
در این هنگام صدای ناله از مسجد بلند شد. مادر وضو گرفت و به مسجد ایستاد.
ساجده با خود گفت: مادر با خدا حرف می‌زند و از او تشکر می‌کند.
او هم وضو گرفت. مادر گریه‌اش را سر کرد و گفت: مادر به تشکر ایستاد.

عروب یک روز بهاری است. گنجشک‌ها بر روی درختان جیک جیک می‌کنند.
ساجده از پنجره‌ی اتاق نگاه می‌کند و می‌گوید: مادر، چرا گنجشک‌ها
جیک جیک می‌کنند؟ آن‌ها چه می‌گویند؟
مادر گفت: دخترم، همان طور که ما حرف می‌زنیم، گنجشک‌ها هم حرف می‌زنند.
فکر می‌کنم آن‌ها با این کار از خدا تشکر می‌کنند.
ساجده گفت: آن‌ها به خدا چه می‌گویند؟
مادر گفت: شاید می‌گویند:
خدایا تو به ما یاد دادی چگونه پرواز کنیم.
چگونه لانه بسازیم و کجا دنبال دانه بگردیم.


سوالات درس اول *هدیه های خدا*

- ۱- چه کسی نعمت های زیادی به ما داده است؟ خدای مهربان
- ۲- چرا خدا نعمت های زیادی به ما داده است؟ چون خدا مهربان است و ما را دوست دارد.
- ۳- چند تا از نعمت های خدا را نام ببر؟ خورشید - درختان - پدر و مادر - باران - آب - سلامتی
- ۴- ما در برابر نعمت های خدا چه وظیفه ای داریم؟ باید خدا را شکر کنیم و از او تشکر کنیم.
- ۵- ما چگونه می توانیم از خدا تشکر کنیم؟ با نماز خواندن و دعا کردن، استفاده درست از نعمت های خداوند
- ۶- خداوند چه نعمت هایی به تو داده است؟ سلامتی - چشم - گوش - دست - پا - پدر و مادر



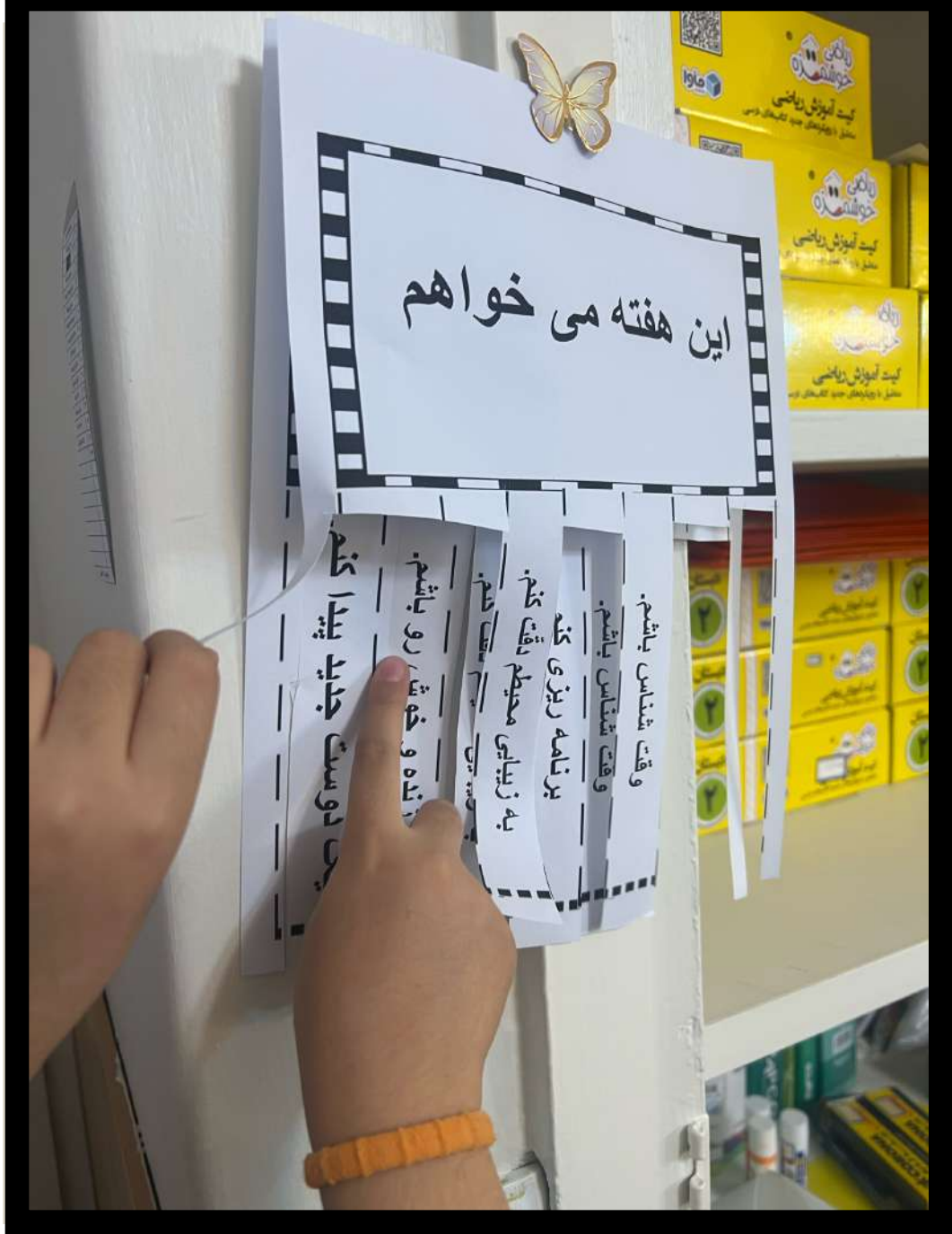
سوالات درس دوم *پرندگان چه می گویند*

- ۱- خداوند چه نعمت هایی به پرندگان داده است؟ قدرت پرواز کردن - لانه ساختن - دنبال غذا رفتن
- ۲- ما باید از چه کسی به خاطر نعمت هایش تشکر کنیم؟ خدای مهربان
- ۳- ما چگونه می توانیم با خدا حرف بزنیم و از او تشکر کنیم؟ با نماز خواندن
- ۴- وقتی صدای اذان بلند می شود یعنی موقع خواندن... نماز... است.
- ۵- بهترین راه حرف زدن با خدا... نماز خواندن... است.
- ۶- مادر ساجده قبل از نماز خواندن چه کاری انجام داد؟ وضو گرفت





آموزش حس مسئولیت پذیری
با طراحی اهداف هفتگی



دنیا همه هیچ و اهل دنیا همه هیچ
ای هیچ برای هیچ بر هیچ مپیچ
دانی که پس از عمر چه ماند باقی
مهر است و محبت است و باقی
همه هیچ

با آرزوی پاییزی رنگارنگ برای شما
عزیزان
فرناز زهرایی نژاد